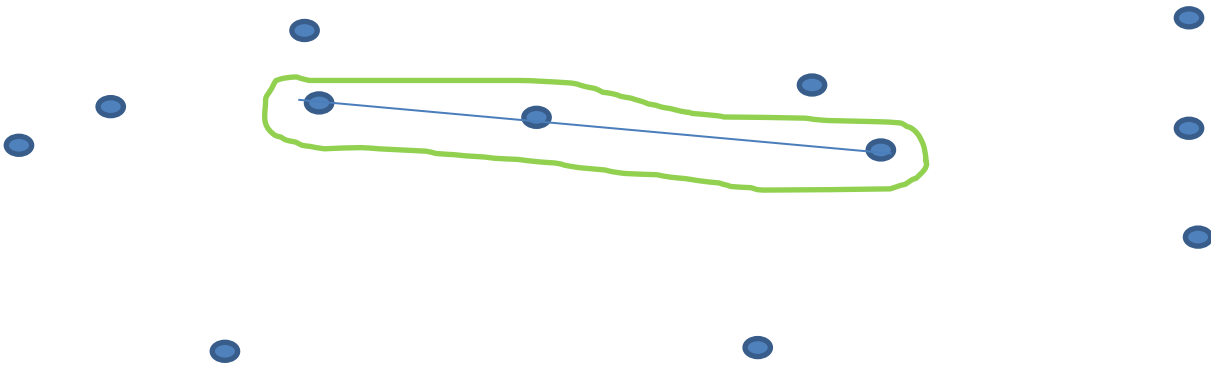


Prénom :		<h1>Géométrie</h1> <i>Evaluations pour la 1^{ère} période</i>	
Date :			
A : acquis	AR : à renforcer	EA : en cours d'acquisition	NA : non acquis


Alignements

1	Savoir repérer des alignements (des points alignés)	A	AR	EA	NA
	Entoure en vert les points alignés.				




Segments

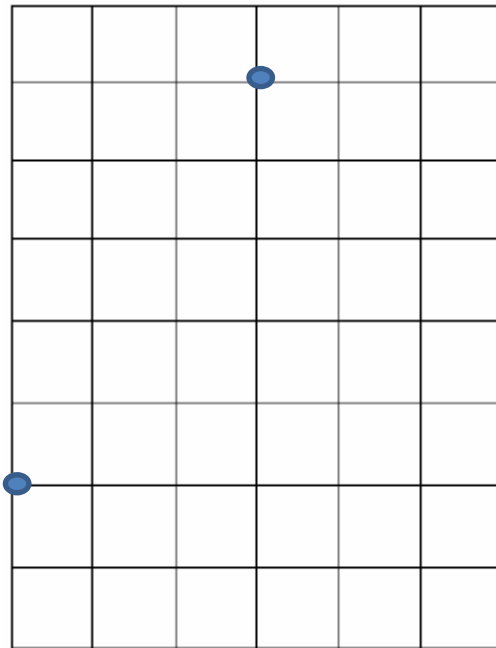
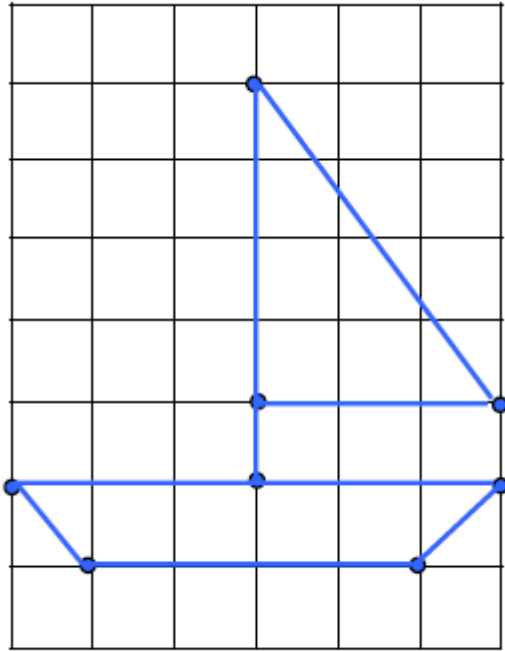
2	Savoir tracer un segment.	A	AR	EA	NA
	Relie les points avec ta règle pour tracer des segments.				



3	Savoir prolonger un segment.	A	AR	EA	NA
	Prolonge les segments avec ta règle.				




4	Savoir reproduire une figure à l'aide d'un quadrillage.	A	AR	EA	NA
	Reproduis la figure sur le quadrillage.				



<http://gommeguibouillages.free.fr/>

Triangles & Quadrilatères

5	Reconnaître et caractériser triangles et quadrilatères.	A	AR	EA	NA
	Colorie en jaune les triangles et en vert les quadrilatères , puis complète le texte.				



Devinettes :

J'ai 4 sommets et 4 côtés, je suis un _____.

J'ai 3 côtés et 3 sommets, je suis un _____.

6

Savoir tracer des triangles.

Suis les programmes de construction.


A

AR

EA

NA

Termine le triangle en reliant les points avec ta règle :



Trace 3 points, puis trace un triangle à l'aide de ces points :

Droite & Gauche

7

Distinguer sa droite et sa gauche.

Colorie en bleu la jambe gauche du petit garçon,
et en rouge la jambe droite de la petite fille.

A

AR

EA

NA

